

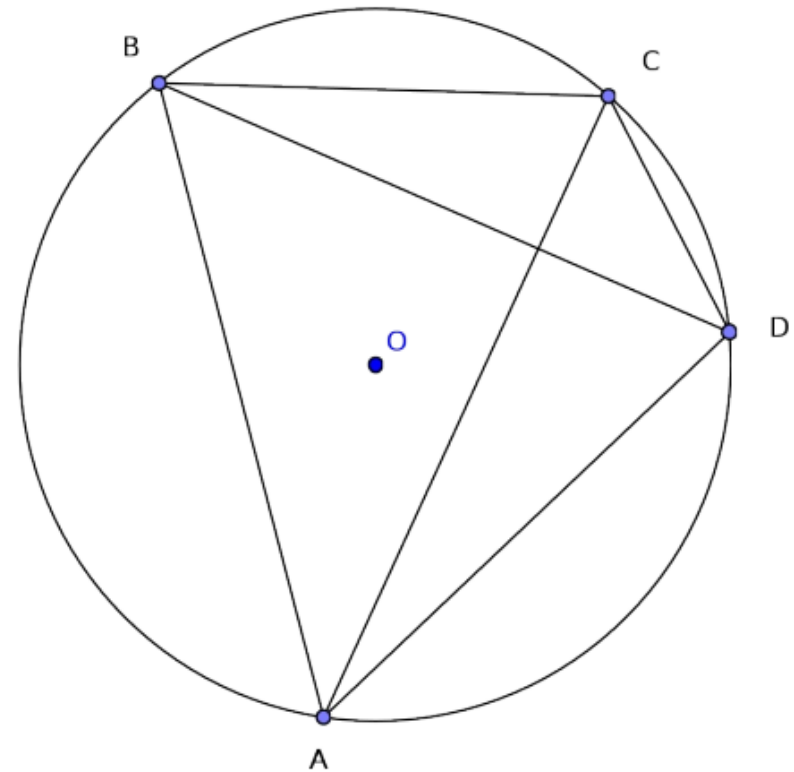
Teorema di Tolomeo

Dimostrazione geometrica e
goniometrica



Dimostrazione geometrica:

- “In un quadrilatero convesso inscritto ad una circonferenza, il prodotto delle misure delle diagonali è uguale alla somma delle misure dei prodotti dei lati opposti.”

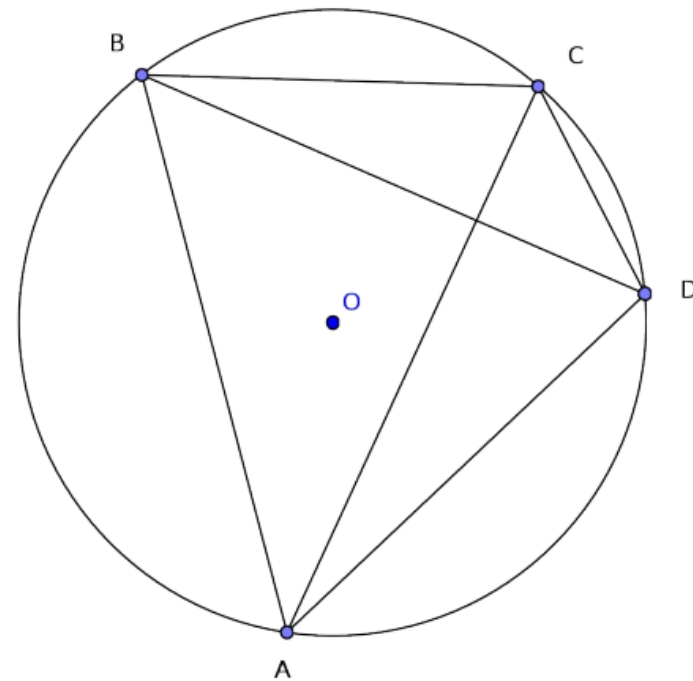


Ipotesi:

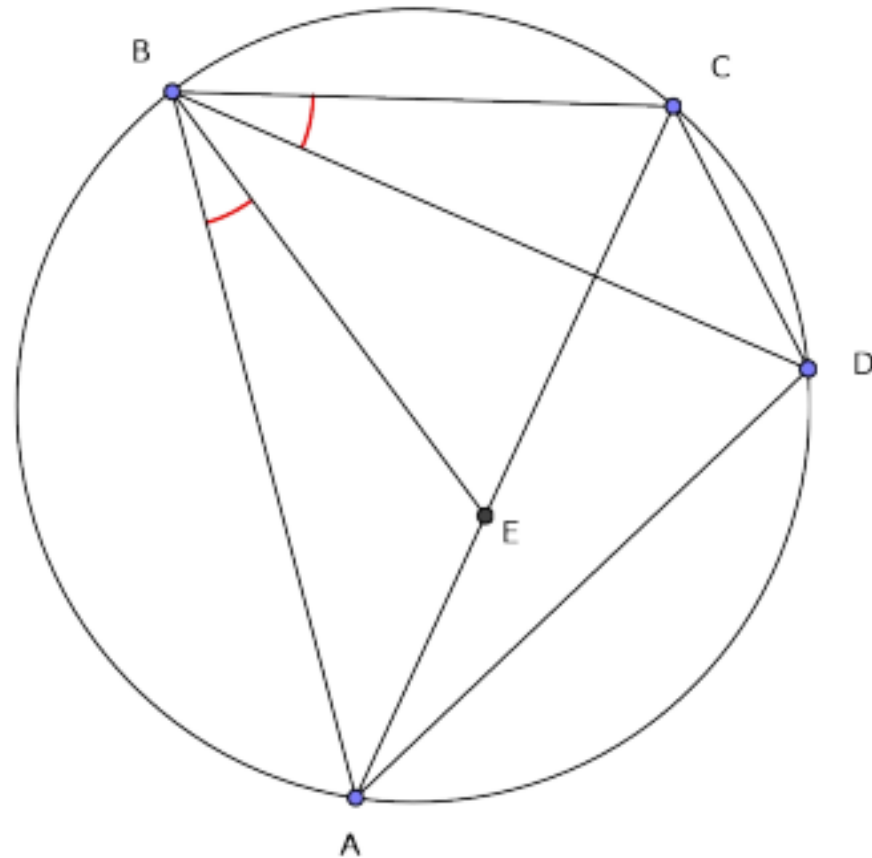
ABCD è un quadrilatero inscritto
in una circonferenza

Tesi:

$$AB \cdot CD + BC \cdot AD = AC \cdot BD$$

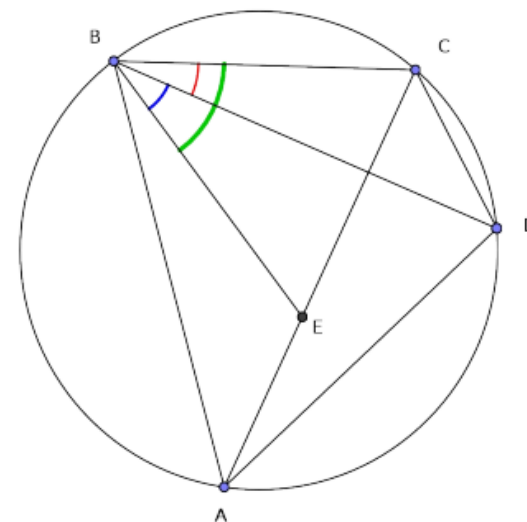
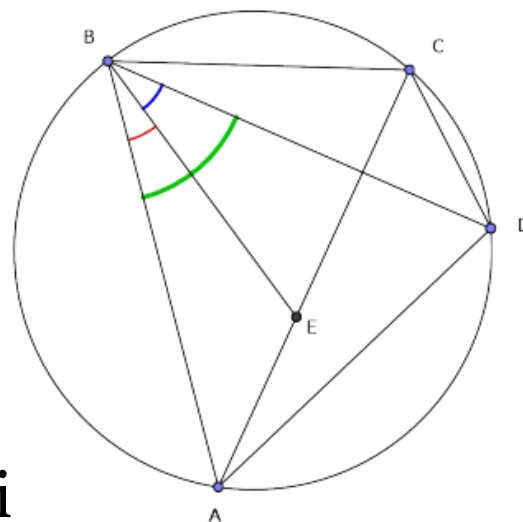


- Si costruisca l'angolo $A B E$ che sia congruente all'angolo $D B C$:

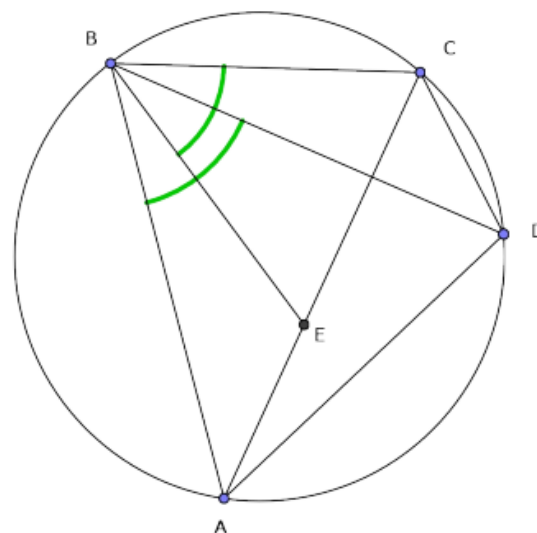


- Se si addiziona a ciascuno dei due angoli congruenti $\angle ABE$ e $\angle DBC$ lo stesso angolo centrale $\angle DBC$, le somme saranno uguali, cioè sarà:

$$\angle ABD \equiv \angle EBC$$



- Si ottiene quindi



- Inoltre l'angolo **B D A** è congruente all'angolo **B C E** perché sono angoli alla circonferenza che insistono sullo stesso **arco AB** (sottendono la stessa corda AB):

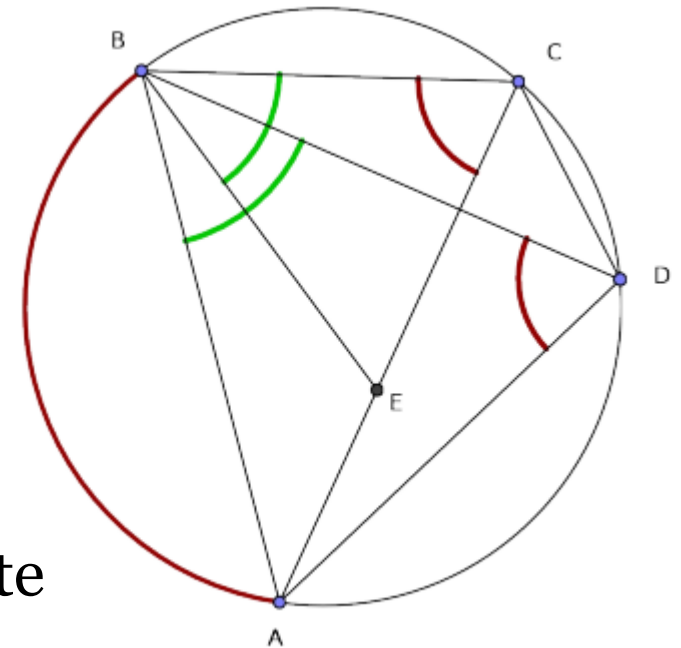
- Allora i due triangoli ABD ed EBC, avendo

$$\boxed{B D A = B C E} \quad \text{e} \quad \boxed{A B D \equiv E B C}$$

- Sono simili per il I criterio di similitudine.

Allora è possibile scrivere la seguente proporzione tra i loro lati:

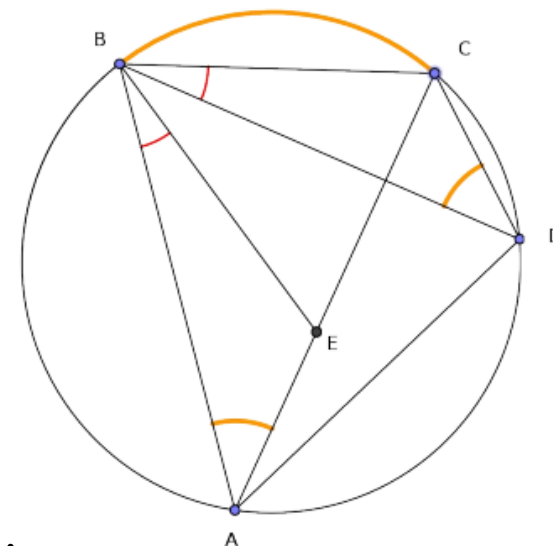
$$AD : BD = EC : BC \quad \Longrightarrow \quad EC \cdot BD = AD \cdot BC$$



- Si considerino ora i triangoli ABE e BDC. Essi hanno:

$\angle ABE \equiv \angle BDC$ per costruzione;

$\angle BAE \equiv \angle BDC$ perché sono due angoli alla circonferenza che insistono sullo stesso arco BC



- I triangoli sono simili per il **primo criterio** di similitudine

Allora è possibile scrivere la seguente proporzione tra i loro lati:

$$AB : AE = BD : CD \implies AE \cdot BD = AB \cdot CD$$

- Sommando membro a membro le uguaglianze

$$AE \cdot BD = AB \cdot CD \quad \text{e} \quad EC \cdot BD = AD \cdot BC$$

si ha:

$$AE \cdot BD + EC \cdot BD = AB \cdot CD + AD \cdot BC$$

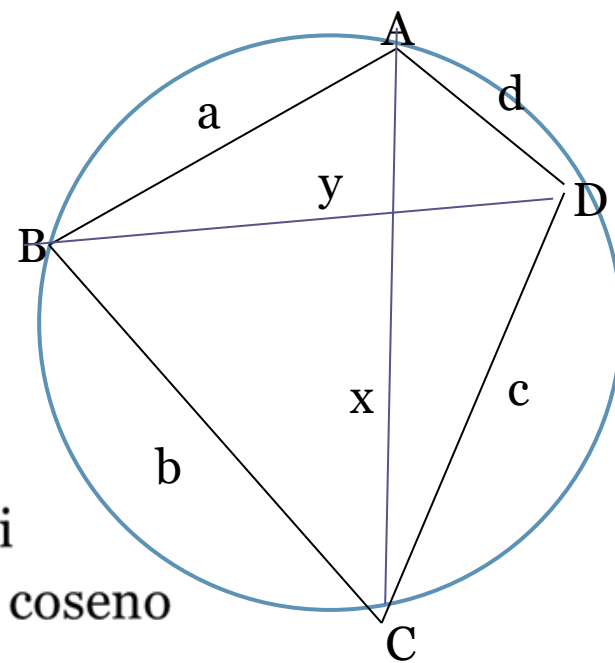
- Raccogliendo a fattor comune BD al primo membro: $(AE + EC) \cdot BD = AB \cdot CD + AD \cdot BC$
- Otterremo

$$AC \cdot BD = AB \cdot CD + AD \cdot BC \quad \text{cioè la tesi}$$

C.V.D

Dimostrazione goniometrica

- Nel quadrilatero ABCD siano:
- $AB=a$; $BC=b$; $CD=c$
- $AD=d$; $AC=x$; $BD=y$



In ogni triangolo inscritto gli angoli opposti sono supplementari, quindi con il teorema del coseno

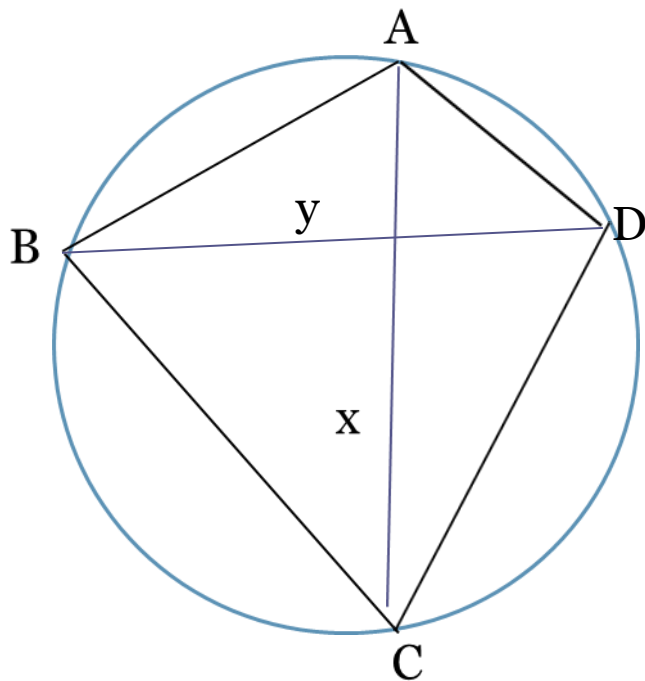
Per i triangoli ABC e ACD:

$$x^2 = a^2 + b^2 - 2ab \cos \beta$$

$$x^2 = c^2 + d^2 - 2cd \cos \delta$$

$$x^2 = a^2 + b^2 - 2ab \cos \beta$$

$$x^2 = c^2 + d^2 - 2cd \cos \delta$$



Ricaviamo $\cos \beta = \frac{a^2 + b^2 - x^2}{2ab}$

Lo andiamo a sostituire nella seconda uguaglianza: $x^2 = \frac{(ac+bd)(ad+bc)}{ab+cd}$

Analogamente

$$y^2 = \frac{(ac+bd)(ab+cd)}{ad+bc}$$

Moltiplichiamo assieme entrambe le uguaglianze:

$$x^2 y^2 = \frac{(ac + bd)(ad + bc)(ac+bd)(ab+cd)}{(ab+cd)(ad+bc)}$$

$$x^2y^2 = \frac{(ac + bd)(ad + bc)(ac+bd)(ab+cd)}{(ab+cd)(ad+bc)}$$

Semplifichiamo ed
estriamo radice

$$\Rightarrow \sqrt{x^2y^2} = \sqrt{(ac + bd)^2} \Rightarrow$$

$$xy = ac + bd$$

CVD

Realizzato da:
Gaia Profeta
Claudia Barbagallo
IV B classico
a.s. 2016/2017